

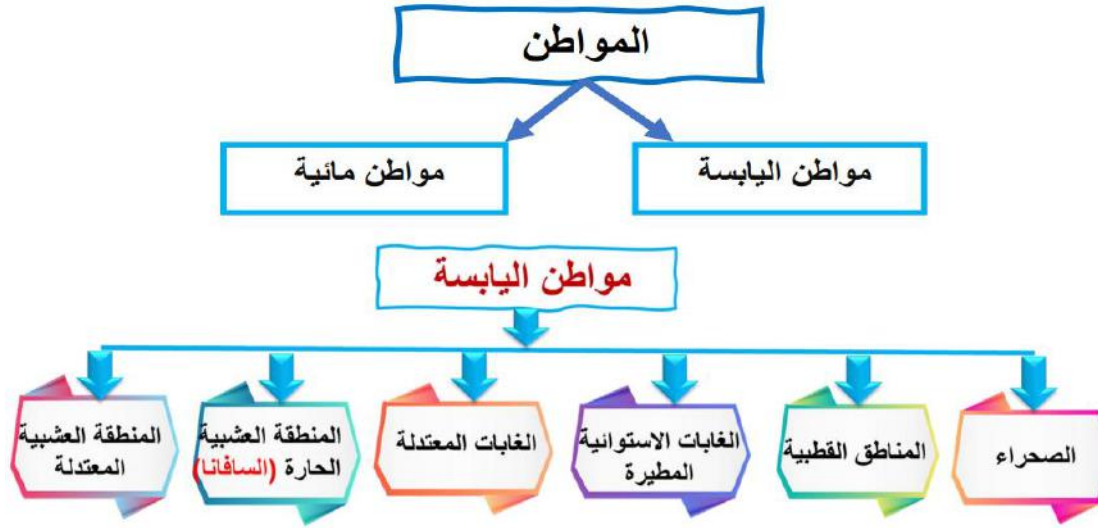
## ورقة عمل 1

(ما المواطن المختلفة الموجودة؟)

الاسم:-----

الصف : رابع/

ماذا تعلمت :



السؤال الأول

ضع دائرة حول رمز الإجابة الصحيحة :

1-	أي من المواطن التالية يعيش فيها الفيل؟
A	السافانا
B	موطن المياه العذبة
C	موطن المياه المالحة
D	المنطقة العشبية المعتدلة

2-	أي من هذه الحيوانات تعيش في المناطق العشبية المعتدلة؟
A	القرش
B	الأغنام
C	نمر الثلج
D	غوريلا الجبل

2-	ما نوع الموطن الموضح في الصورة؟
A	السافانا
B	المياه العذبة
C	الغابات المعتدلة
D	المناطق العشبية المعتدلة



## ورقة عمل 2

### (ما الكائنات الحية التي تعيش في الصحاري أو المناطق القطبية؟)

الاسم: .....

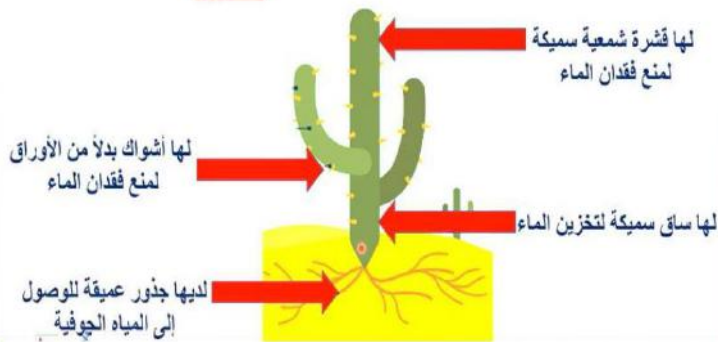
الصف : رابع/

ماذا تعلمت :



#### تكيفت النباتات للعيش في الصحاري الحارة

##### الصبار



#### ثعلب الصحراء ( الحصيني )



**كما تكيف الجمل للعيش في الصحراء : له سنام لتخزين الدهون مما يساعده على تبريد الجسم والاحتفاظ بالماء**

#### السؤال الأول

ضع دائرة حول رمز الإجابة الصحيحة :

1-	أي من النباتات الآتية يعيش في الصحراء؟
A	الصبار
B	الحزازيات
C	أعشاب السافانا
D	ترمس القطب الشمالي



1-	كيف يتكيف ثعلب الصحراء للعيش في الصحاري الحارة؟
A	له سنام
B	له آذان كبيرة
C	له آذان صغيرة
D	يدخل في سبات شتوي

1-	أي من هذه النباتات يعيش في دولة قطر؟
A	القصب
B	الصبار
C	الحزازيات
D	الحوذان المائي

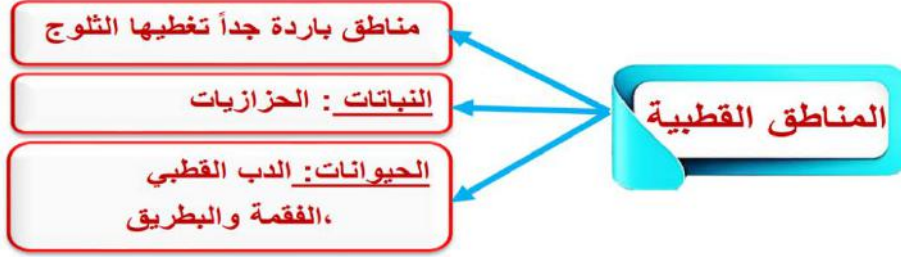
### السؤال الثاني

أكمل الجدول التالي:

اسم الكائن الحي	صفة مميزة تساعد الكائن الحي على التكيف
ثعلب الصحراء (الحصيني)	
الجمال	



ماذا تعلمت :



حزازيات

**تكيف النباتات في المناطق القطبية**

صغيرة الحجم مثل الحزازيات  
وقد يكون لبعضها أزهار

**تكيف الدب القطبي للعيش في المناطق القطبية**



- له فرو كثيف لإبقائه دافئاً
- طبقة من الشحم
- ينام طيلة فترة الشتاء (سبات شتوي) للحفاظ على طاقته

**السؤال الأول**

ضع دائرة حول رمز الإجابة الصحيحة :

1-	أي من هذه الكائنات يمكن العثور عليها في المنطقة القطبية؟
A	النمر
B	الصبار
C	ثعلب الصحراء
D	فقمة القطب الشمالي

**السؤال الثاني:**

أ. أكمل الجدول التالي للمقارنة بين الدب القطبي وثعلب الصحراء.

الحيوان	الموطن	طريقة التكيف للعيش في موطنه
الدب القطبي		
ثعلب الصحراء		

### ورقة عمل 3

#### (ما الكائنات الحية التي تعيش في الغابات أو المناطق العشبية؟)

الاسم: .....

الصف : رابع/

ماذا تعلمت :



#### السؤال الأول

ضع دائرة حول رمز الإجابة الصحيحة :

1-	ما خصائص النباتات في الغابات الاستوائية المطيرة؟
A	نفضيه
B	دائمة الخضرة
C	متساقطة الأوراق
D	قليلة النباتات

2-	ما نوع الموطن الذي يعيش فيه السنجاب الأحمر؟
A	المياه العذبة
B	المياه المالحة
C	الغابات المعتدلة
D	الغابات المطيرة

## ماذا تعلمت :



## السؤال الثاني:

أذكر مثلاً واحداً على حيوان يعيش في المواطن الآتية:

السافانا	المناطق العشبية المعتدلة	الغابات المعتدلة	الغابات الأستوائية المطيرة



#### ورقة عمل 4

### (ما الكائنات الحية التي تعيش في المواطن المائية؟)

الاسم:-----

الصف : رابع/

ماذا تعلمت :

المواطن المائية			
النباتات	الحيوانات	أمثلة	الموطن
الأعشاب البحرية – الشعب المرجانية	أسماك القرش - الحيتان - الدولفين	البحار والمحيطات	موطن المياه المالحة
الحوذان المائي زنبق الماء	أسماك البرك – الضفدع - التمساح-القدس	البرك والأنهار والجداول	موطن المياه العذبة

#### السؤال الأول

ضع دائرة حول رمز الإجابة الصحيحة :

1-	أي من هذه الكائنات الحية تعيش في موطن المياه العذبة؟
A	الكرند
B	الضفدع
C	السلحفاة
D	الأعشاب البحرية

2-	أي من النباتات الآتية موجودة فقط في موطن المياه المالحة؟
A	زهرة اللوتس
B	نبات البردي
C	الحوذان المائي
D	الأعشاب البحرية

#### السؤال الثاني

أصنف المواطن الآتية إلى موطن مياه مالحة وموطن مياه عذبة.

النهر	البحر	البرك	المحيط
-------	-------	-------	--------

موطن مياه عذبة	موطن مياه مالحة
_____	_____
_____	_____

## ورقة عمل 5

(ما الكائنات الحية التي تعيش في أكثر من موطن واحد؟)

الاسم:-----

الصف : رابع/

ماذا تعلمت :

تعد هجرة خطاف البحر من أطول الهجرات بين الحيوانات  
يعيش بين نوعين مختلفين من المواطن وهما  
مواطن المياه المالحة والمياه العذبة



## السؤال الأول

ضع دائرة حول رمز الإجابة الصحيحة :

1-	ما الكائن الحي الذي يهاجر الى دولة قطر في فصل الشتاء؟
A	الحباري
B	الحمار الوحشي
C	الحوت الأحدب
D	الفراشة الملكية

2-	ما نوع الموطن الذي يعيش فيه خطاف البحر القطبي؟
A	الصحراء
B	الموطن المائي
C	المناطق العشبية
D	الغابات الاستوائية

## السؤال الثاني:

أ. أذكر اثنين من أسباب هجرة الحيوانات من موطن إلى آخر.

1-

2-

## ورقة عمل 6

(كيف يكون لبعض ممارسات الإنسان الخاطئة تأثير سلبي في المواطن؟)

الاسم: .....

الصف : رابع/

ماذا تعلمت :



السؤال الاول

أذكر التأثيرات السلبية التي أحدثها الإنسان في المواطن أسفل كل صورة فيما يلي:



ب. صنف تأثير الإنسان على المواطن حسب الجدول الموضح.

(إزالة الغابات - إنشاء المحميات الطبيعية - الصيد الجائر للأسماك - إعادة التدوير)

آثار سلبية على المواطن	آثار إيجابية على المواطن
<hr/>	<hr/>
<hr/>	<hr/>